

# チャーリー・ブラウンと そのなかまたちといっしょに



# PEANUTS<sup>®</sup> はるをたのし もう!

## 保護者の方へ

おなじみのピーナッツキャラクターが、国語、理科、算数の楽しい学習にお子さんをいざないます。保護者の方も、アクティビティを通しお子さんと一緒に春へと一歩踏み出していただければと思います。

本教材はYoung Minds Inspired (YMI) に在籍するカリキュラムエキスパートによって作成されたものです。アクティビティを通し、創造的な遊びを楽しみながら、国語と算数の力を伸ばします。

お子さんとご一緒に春をお楽しみいただければと思います。

よろしくお願いたします。

ドミニク・キンズリー博士  
編集長

Young Minds Inspired

## ねらい

これらのアクティビティは以下の力を伸ばすねらいがあります:

- 国語の力
- 算数の力
- 創造的思考
- 人格形成



## 対象学年

幼稚園～小学3年生  
(4歳～8歳)

## アクティビティ の進め方

本プログラムでは、3つの標準的アクティビティが用意されています。使いたいアクティビティシートをダウンロードしてプリントアウトします。また必要な材料があれば、アクティビティを始める前に準備します。お子さんがサポートを必要としている場合は、各アクティビティシートと一緒に読んでお手伝いしてあげてください。

# PEANUTS

© 2020 Peanuts Worldwide LLC  
© 2020 Twentieth Century Fox Film Corporation.  
All Rights Reserved



© 2020 YMI, Inc.

YMIは受賞歴のある元教師が所有および監督する、無料かつ画期的な教材を開発する唯一の企業です。ご意見をお寄せ頂く場合は、当社のウェブサイトymiclassroom.comをご利用ください。またこちらのウェブサイトからもっとたくさんの無料プログラムをダウンロードしていただけます。ご質問がございましたら、フリーダイヤル1-800-859-8005にお電話いただくか、feedback@ymiclassroom.comまでメールにてお問い合わせください。

## アクティビティ1

### はなっておもしろい!

春がやってきました。チャーリー・ブラウンとお友達は花をつんでいます。このアクティビティで、お子さんは読解力と批判的思考力を用いて、各キャラクターとそれぞれのお気に入りの花とマッチさせます。

#### 必要な材料

鉛筆とアクティビティシート

様々な春のしるしがあることをお子さんに伝え、花の咲き方も初春のしるしの1つであることを説明してください。お子さんにどの花が好きかを聞き、またあなたの好きな花の名前を伝えます。それから、ピーナッツの仲間たち、ルーシー、チャーリー・ブラウン、ライナス、スヌーピーにもお気に入りの花があること、アクティビティシートを完成してそれぞれの好きな花が何かを見つけるようお子さんに伝えます。終わったら花に色を塗ってもらいます。

#### 答え

ルーシー、チューリップ。チャーリー・ブラウン、アヤメ。スヌーピー、スイセン。ライナス、クロッカス。

#### 発展学習

**年少のお子さん（幼稚園～小学1年生 / 4歳～6歳）：** パイプクリーナーとカラフルなティッシュペーパーで花を作りましょう。ティッシュペーパーを束にして重ね中央を緑のパイプクリーナーで固定します。パイプクリーナーの残った部分を茎にします。ティッシュペーパーをふわりと広げて花の形を整えます。

**年長のお子さん（小学2年生～3年生 / 7歳～8歳）：** お子さんに花の名前を用いた文章、あるいは1つ以上の花についての詩を書いてもらいます。

## アクティビティ2

### はるはワクワク!

暖かくなってきて、木の様子も変わり始めます。チャーリー・ブラウンと仲間たちの周りに春が来ました!このアクティビティで、お子さんは季節の変化を学びます。

#### 必要な材料

鉛筆とアクティビティシート

お子さんに新しい季節の名前を言ってもらってから、春の前の季節は何かを質問します。各季節について話し合い、それぞれの季節でどのように木が変化するかを指摘します。アクティビティシートをお子さんと一緒に読んでください。季節の順序がばらばらになっていること、そしてチャーリー・ブラウンと仲間たちが正しい順序にするのを助けてあげるよう伝えます。

#### 答え

木の順番: 2、4、3、1。ふゆになると、きのえだははだかになります。なつになると、きははっぱでいっぱいになります。はるになると、きにはたくさんのはながさきます。あきになると、きからはっぱがおちます。

#### 発展学習

**年少のお子さん（幼稚園～小学1年生 / 4歳～6歳）：** 大判の白画用紙を4つに区分し、四季の木の絵を描いてもらいます。あるいは、1本の木が冬から春へ姿を変えていく様子を示すコラージュを作成してもよいでしょう。まず、お子さんにマーカーを用いて厚紙に葉っぱの無い冬の木を描いてもらいます。それから、アセテートまたは透明のフィルムをその厚紙の上にテープで留めて、木に重ねます。カラフルな油性ペンを用いてフィルムに花を描きます。こうすることで厚紙にフィルムを重ねてみると花が咲いたようになります。

**年長のお子さん（小学2年生～3年生 / 7歳～8歳）：** 木の変化や気候の変化を含め、季節の移り変わりについて文章を書いてもらいます。

## アクティビティ3

### プレイボール、チャーリー・ブラウン!

春が来ました。野球の季節です。チャーリー・ブラウンの野球チームの試合がちょうど終わったところです。このアクティビティでは、チャーリー・ブラウンのチームメンバー3人のボール、ヒット、ストライクの数を示す図表のデータを分析します。

#### 必要な材料

鉛筆とアクティビティシート

アクティビティシートにある図表をお子さんに見せ、チャーリー・ブラウンと仲間たちのプレイ記録を確認します。最初の2つの質問にお子さんと一緒に回答してください。チームのヒット数は少ないけれど、チャーリー・ブラウンと仲間たちが一生懸命プレイして、試合を楽しんでいることを指摘します。一生懸命プレイすることの大切さについて話してあげてください。その後、お子さんに残った2つの質問に回答してもらいます。

#### 答え

3ヒット、2ボール、14ストライク、 $9 - 5 = 4$

#### 発展学習

**年少のお子さん（幼稚園～小学1年生 / 4歳～6歳）：** お子さんに試合に負けた時のことを話してもらいます。その試合でお子さんは一生懸命プレイしたでしょうか?一生懸命プレイするとはどういうことか、お子さんに質問します。

**年長のお子さん（小学2年生～3年生 / 7歳～8歳）：** お子さんに図表のデータを使って、足し算、引き算、掛け算の数式を書いたり、文章題を作ってもらいます。

PEANUTS

© 2020 Peanuts Worldwide LLC  
© 2020 Twentieth Century Fox Film Corporation. All Rights Reserved



YMI  
© 2020 YMI, Inc.

# はなっておもしろい!

ルーシー、チャーリー・ブラウン、スヌーピー、ライナスが、おきにいりのはなをさがせるよう、たすけてあげてください! はなのなまえをみてみましょう。それぞれのじのかずをかぞえ、たどしいはなのなまえを、わくのなかにかきこんでください。それから、はなにいろをぬりましょう。

アヤメ



チューリップ



スイセン



クロッカス



わたしがほしいのは—  
-----

ぼくがほしいのは—  
-----

ぼくがほしいのは—  
-----

スヌーピーにのこっているのは  
どのはなですか?  
-----



## ピーナッツのなかまたちとはるをたのしもう!

# はるはワクワク!



きのえをみてください。それぞれのきは、べつのきせつのものです。

1) ふゆを1として、ただしいじゅんじょで、きせつにばんごうをふりましょう。

2) ことばをただしいじゅんじょにならべましょう。それぞれのぶんと、それにあうきをせんでむすびましょう。



きの ふゆになると、 えだは なります はだかに

\_\_\_\_\_。



はっぱで いっぱいになります きは なつになると、

\_\_\_\_\_。



さきます きには たくさんのはなが はるになると、

\_\_\_\_\_。






きから おちます はっぱが あきになると、

\_\_\_\_\_。

## ピーナッツのなかまたちとはるをたのしもう!

# プレイボール、チャーリー・ブラウン!

チャーリー・ブラウンとピーナッツのなかまたちのやきゅうのしあいが、ちょうどおわったところです。みんなうまくプレイできたでしょうか? ずをみて、つぎのしつもんにかたえましょう。

プレーヤー	ボール	ストライク	ヒット
 チャーリー・ブラウン	5	9	0
 スヌーピー	4	5	2
 ルーシー	7	6	1

チャーリー・ブラウン、ルーシー、スヌーピーのヒットのかずをあわせると、いくつになりますか? \_\_\_\_\_

ルーシーのボールのかずは、チャーリー・ブラウンのボールのかずより、いくつおおいですか? \_\_\_\_\_

スヌーピーとチャーリー・ブラウンのストライクのかずをあわせると、いくつになりますか? \_\_\_\_\_

チャーリー・ブラウンのストライクのかずは、ボールのかずよりいくつおおいですか? しきをかきましょう:

## ピーナッツのなかまたちとはるをたのしもう!